


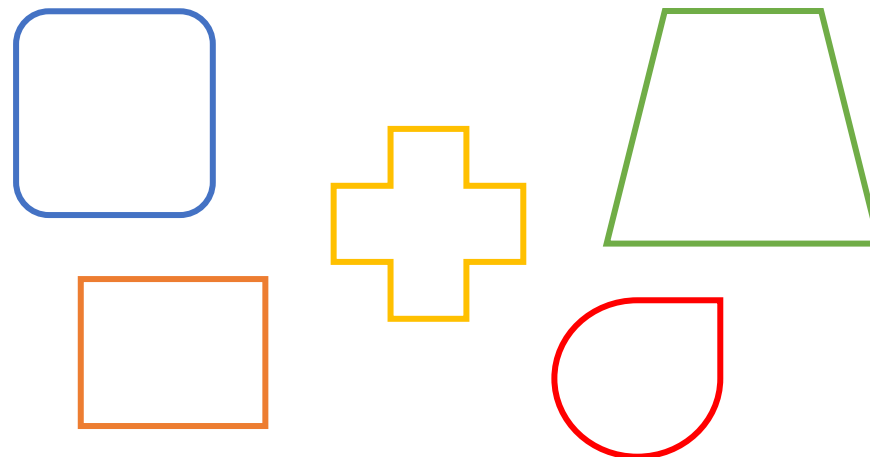
## LES POLYGONES

Entoure les polygones parmi les figures suivantes



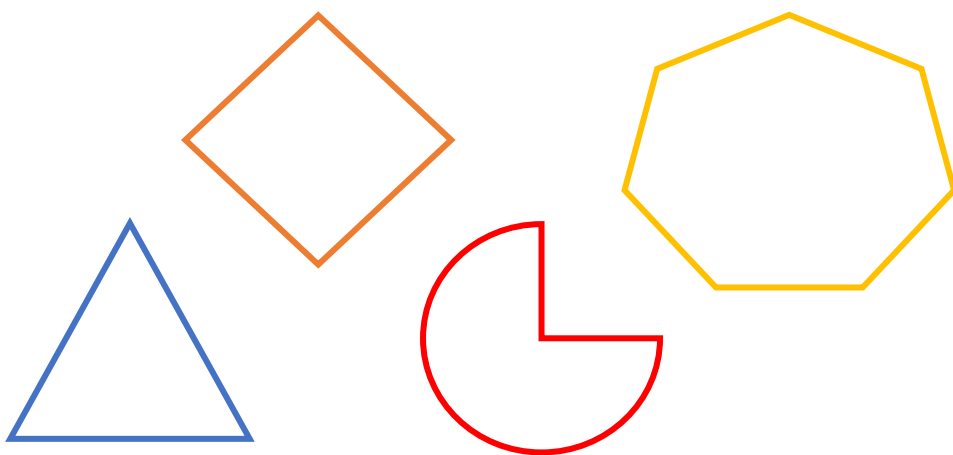
## LES POLYGONES

Entoure les polygones parmi les figures suivantes



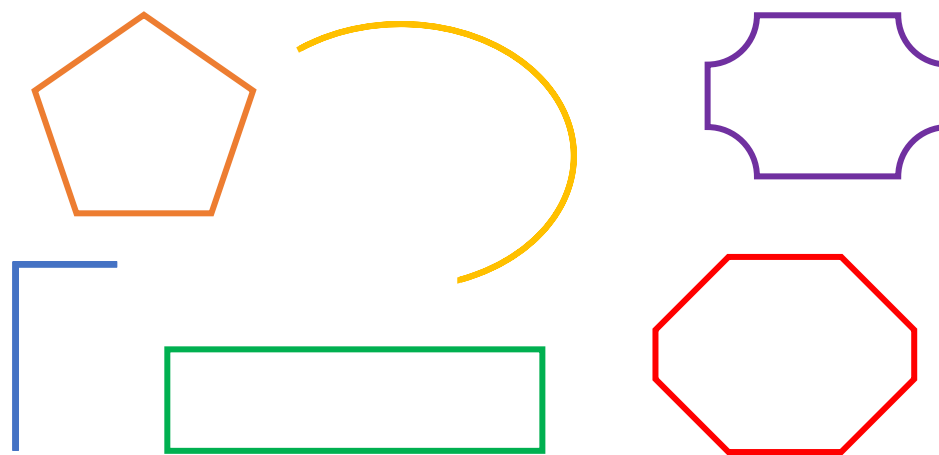
## LES POLYGONES

Entoure les polygones parmi les figures suivantes



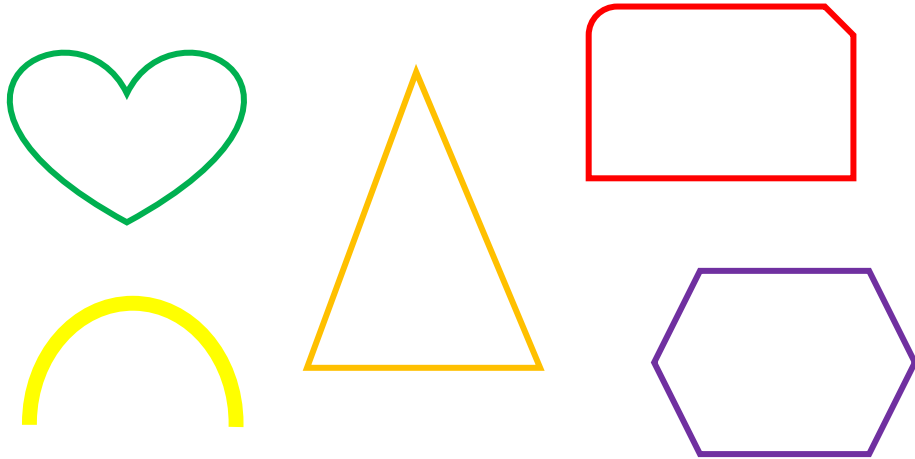
## LES POLYGONES

Entoure les polygones parmi les figures suivantes



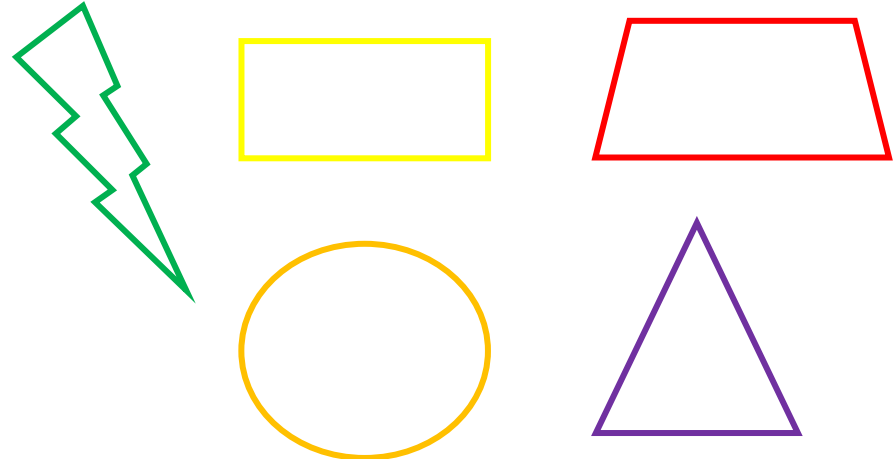
## LES POLYGONES

Entoure les polygones parmi les figures suivantes



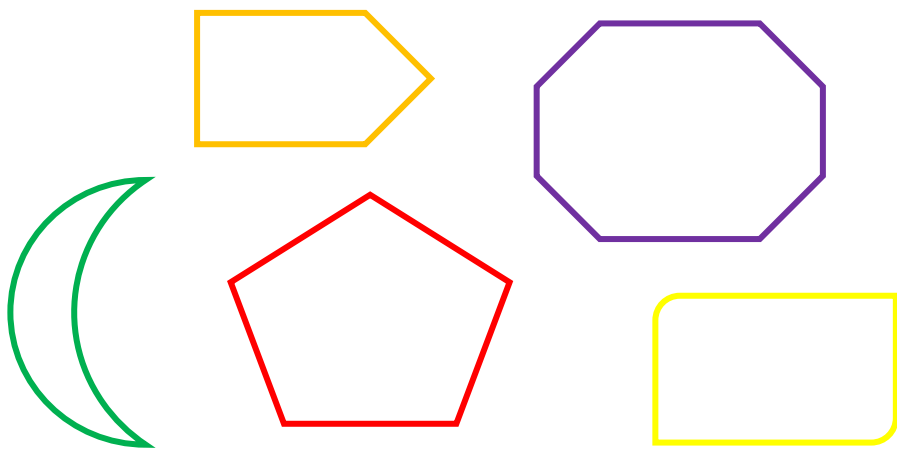
## LES POLYGONES

Entoure les polygones parmi les figures suivantes




## LES POLYGONES

Entoure les polygones parmi les figures suivantes



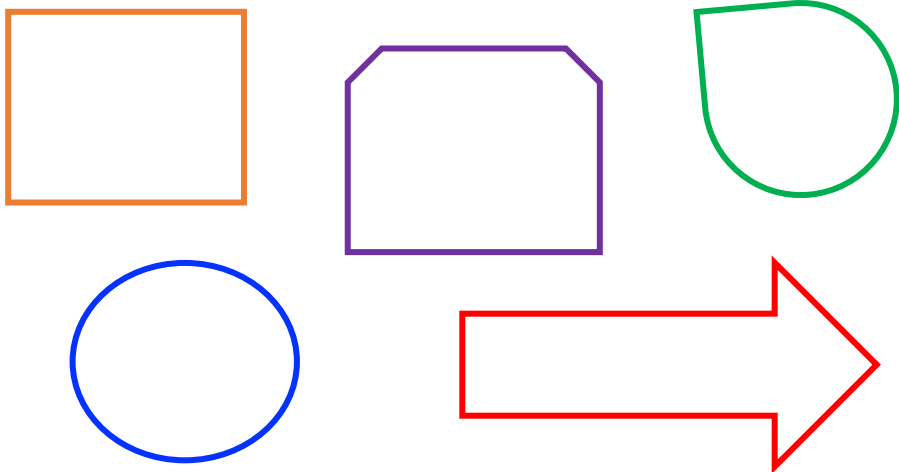
## LES POLYGONES

Entoure les polygones parmi les figures suivantes



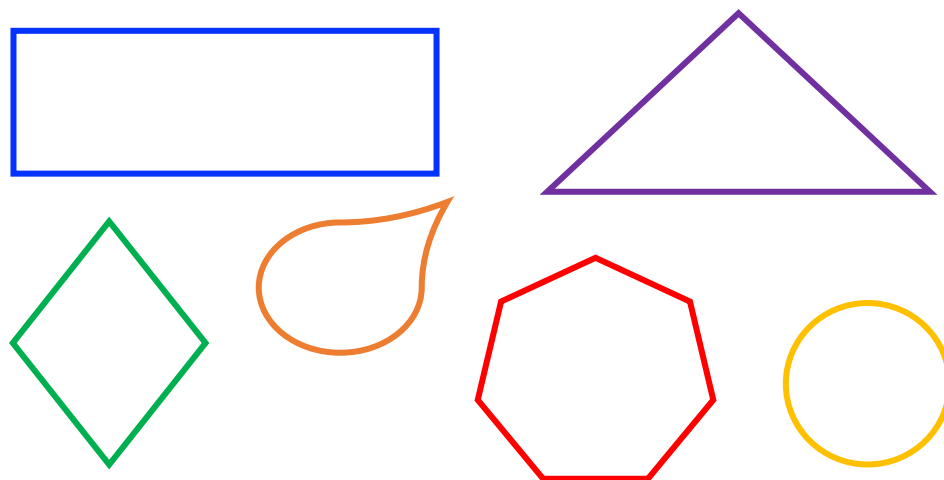
## LES POLYGONES

Entoure les polygones parmi les figures suivantes



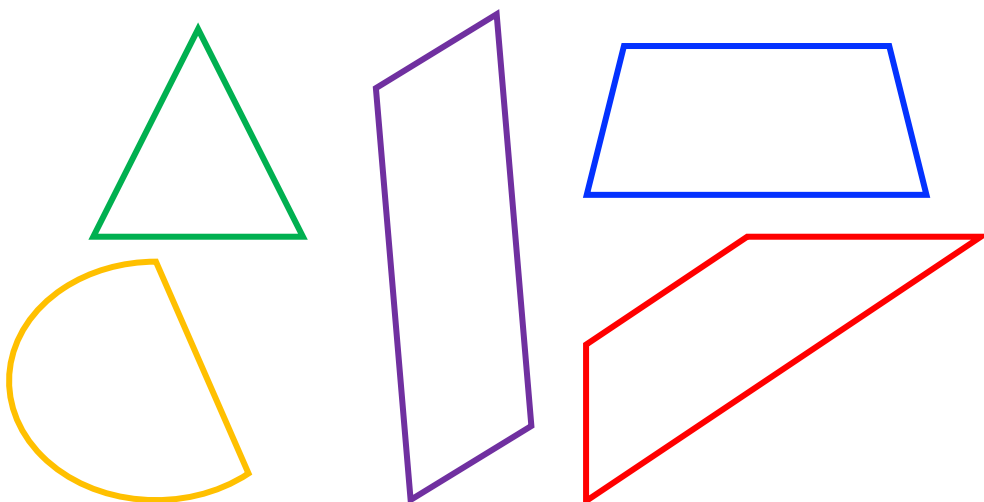
## LES POLYGONES

Entoure les polygones parmi les figures suivantes



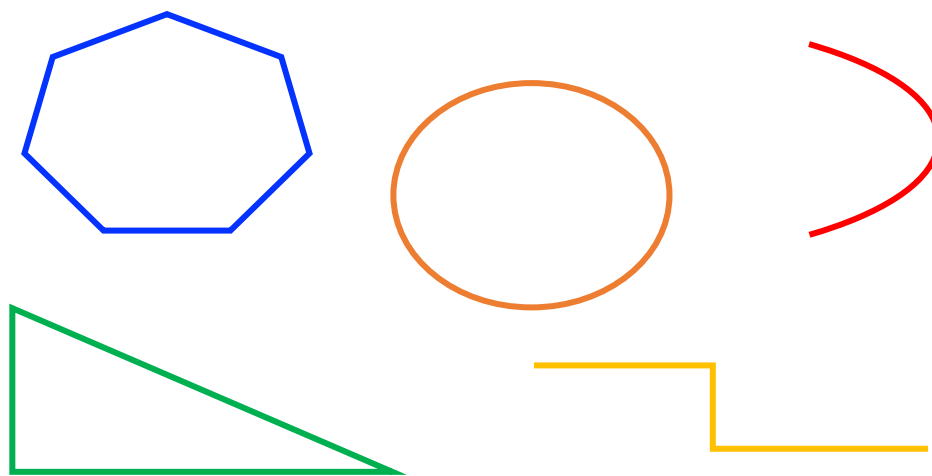
## LES POLYGONES

Entoure les polygones parmi les figures suivantes



## LES POLYGONES

Entoure les polygones parmi les figures suivantes



DESSINE UN POLYGONE

Dessine le polygone demandé

UN TRIANGLE

DESSINE UN POLYGONE

Dessine le polygone demandé

UN QUADRILATÈRE

DESSINE UN POLYGONE

Dessine le polygone demandé

UN PENTAGONE

DESSINE UN POLYGONE

Dessine le polygone demandé

UN HEXAGONE

DESSINE UN POLYGONE

Dessine le polygone demandé

UN OCTOGONE

DESSINE UN POLYGONE

Dessine le polygone demandé

UN DECAGONE

DESSINE UN POLYGONE

Dessine le polygone demandé

UN DODÉCAGONE

DESSINE UN POLYGONE

Dessine le polygone demandé

UN HEPTAGONE

DESSINE UN POLYGONE

Dessine le polygone demandé

UN ENNÉAGONE

DESSINE UN POLYGONE

Dessine le polygone demandé

UN TRIANGLE

3 côtés

DESSINE UN POLYGONE

Dessine le polygone demandé

UN QUADRILATÈRE

4 côtés

DESSINE UN POLYGONE

Dessine le polygone demandé

UN PENTAGONE

5 côtés

DESSINE UN POLYGONE

Dessine le polygone demandé

UN HEXAGONE

6 côtés

DESSINE UN POLYGONE

Dessine le polygone demandé

UN OCTOGONE

8 côtés

DESSINE UN POLYGONE

Dessine le polygone demandé

UN DÉCAGONE

10 côtés

DESSINE UN POLYGONE

Dessine le polygone demandé

UN DODÉCAGONE

12 côtés

DESSINE UN POLYGONE

Dessine le polygone demandé

UN HEPTAGONE

7 côtés

DESSINE UN POLYGONE

Dessine le polygone demandé

UN ENNÉAGONE

9 côtés

